

Направление подготовки **08.03.01 «Строительство»**

Профили подготовки: *Промышленное и гражданское строительство*

Перечень компетенций, формируемых дисциплиной:

Код компетенции	Содержание компетенции
ОК	Общекультурные компетенции
ОК-3	способность использовать основы экономических знаний в различных сферах жизнедеятельности
ОК-7	способность к самоорганизации и самообразованию
ОПК	Общепрофессиональные компетенции
ОПК-7	готовность к работе в коллективе, способность осуществлять руководство коллективом, подготавливать документацию для создания системы менеджмента качества производственного подразделения
ПК	Профессиональные компетенции
ПК-7	способность проводить анализ технической и экономической эффективности работы производственного подразделения и разрабатывать меры по ее повышению

ОЦЕНОЧНОЕ СРЕДСТВО (тестирование)	Контролируемая компетенция
Вариант 1	
1. Такими категориями, как «полезность», «внешний эффект», «прибыль», «спрос», оперирует раздел экономической науки под названием: а) «макроэкономика» б) «мезоэкономика» в) «микроэкономика» д) «наноэкономика»	ОК-3 ОК-7 ОПК-7 ПК-7
2. Фирма является монополистом в своей отрасли. Зависимость валовых издержек и цены от объёмов производства представлена в таблице. Рассчитайте величину прибыли от продажи четырёх единиц продукции.	ОК-3 ОК-7 ОПК-7 ПК-7

Q	0	1	2	3	4	5
P	100	90	80	70	60	50
TC	80	110	136	152	180	240

- a) 110 b) 60 c) 240 d) 80

3. Экономическая система, в которой связь между производством и потреблением осуществляется только посредством конкурентного механизма, называется:

- a) рыночной
b) традиционной
c) плановой
d) командной

**ОК-3
ОК-7
ОПК-7
ПК-7**

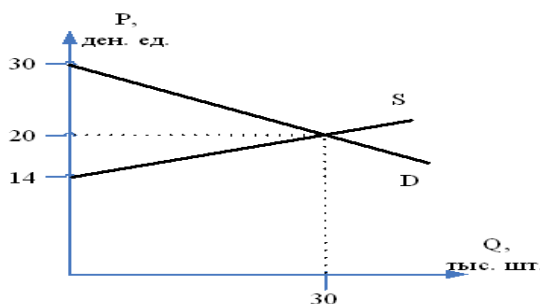
4. Рынок носителей труда в современной России является ...

- a) монопольным
b) нелегальным
c) глобальным
d) отраслевым

**ОК-3
ОК-7
ОПК-7
ПК-7**

5. На основе данных рисунка можно сделать вывод, что излишки покупателей составляют ___ тыс. д. ед.

- a) 600
b) 90
c) 150
d) 3000



**ОК-3
ОК-7
ОПК-7
ПК-7**

6. Создание собственного стиля, абсолютно непохожего на других, в теории потребительского поведения характеризуется как эффект:

- a) демонстративного потребления
b) присоединения к большинству
c) Веблена
d) сноба

**ОК-3
ОК-7
ОПК-7
ПК-7**

7. Примером неценовой конкуренции является:

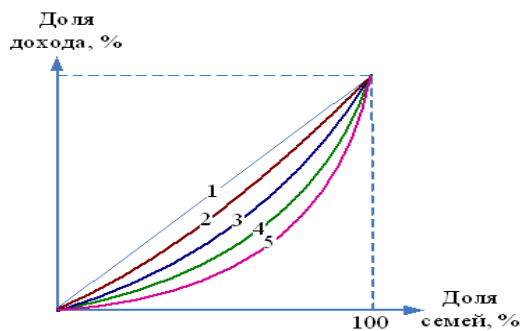
- a) продажа упаковки шампуня большего объема по прежней цене
b) введение системы накопительных скидок в магазине косметики
c) предоставление скидки при покупке значительного объема стройматериалов
d) продажа фена для укладки волос с новой функцией ионизации воздуха

**ОК-3
ОК-7
ОПК-7
ПК-7**

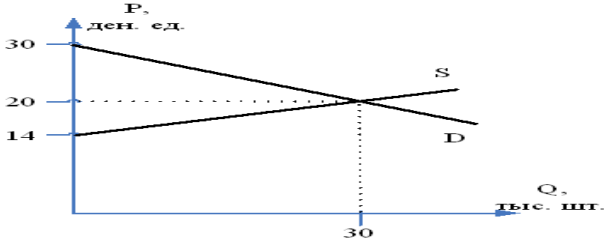
<p>8. Рассчитайте квинтильный коэффициент:</p> <table border="1" data-bbox="240 163 1149 253"> <thead> <tr> <th>Квинтили</th> <th>I</th> <th>II</th> <th>III</th> <th>IV</th> <th>V</th> </tr> </thead> <tbody> <tr> <td>Доля дохода, %</td> <td>8</td> <td>14</td> <td>18</td> <td>24</td> <td>36</td> </tr> </tbody> </table> <p>a) 4,5 b) 2,72 c) 2,25 d) 2</p>	Квинтили	I	II	III	IV	V	Доля дохода, %	8	14	18	24	36	<p>ОК-3 ОК-7</p>
Квинтили	I	II	III	IV	V								
Доля дохода, %	8	14	18	24	36								
<p>9. Рассчитайте ВВП методом потока расходов, если оплата труда наёмных работников 3000 млрд. д. ед., государственные расходы 1450 млрд. д. ед., валовые инвестиции 1350 млрд. д. ед., косвенные налоги 1300 млрд. д. ед., валовая прибыль 3150 млрд. д. ед., потребительские расходы домохозяйств 3200 млрд. д. ед., экспорт 2200 млрд. д. ед., импорт 750 млрд. д. ед.</p> <p>a) 8950 млрд.д.ед. b) 7450 млрд.д.ед. c) 11750 млрд.д.ед. d) 8150 млрд.д.ед.</p>	<p>ОК-3 ОК-7</p>												
<p>10. Если постоянные издержки (FC) = 700 руб., а средние переменные издержки (AVC) = 20 руб. при 120 ед. продукции Q, то общие издержки (TC) будут равны ... руб.</p> <p>a) 1400 b) 3100 c) 2400 d) 84000</p>	<p>ОК-3 ОК-7 ОПК-7 ПК-7</p>												
<p>11. Такими терминами, как «экономический рост», «экономический кризис», «совокупный спрос», «денежно-кредитная политика», «совокупное потребление», «безработица» оперирует раздел экономики, который называется:</p> <p>a) микроэкономика b) мировая экономика c) мегаэкономика d) макроэкономика</p>	<p>ОК-3 ОК-7</p>												
<p>12. В учении _____ основой богатства общества является положительный торговый баланс страны.</p> <p>a) физиократов b) меркантилистов c) монетаристов d) маржиналистов</p>	<p>ОК-3 ОК-7 ОПК-7 ПК-7</p>												

<p>13. Развитая система пожизненного найма на работу характерна для смешанной экономики:</p> <p>a) Японии b) Швеции c) США d) России</p>	<p>ОК-3 ОК-7 ОПК-7 ПК-7</p>
<p>14. Границей государственного вмешательства в рыночные отношения является:</p> <p>a) уплата фирмой налогов b) количество акций, находящихся в собственности государства c) распространение коррупции и монополий d) эффективность рыночной экономики</p>	<p>ОК-3 ОК-7 ОПК-7 ПК-7</p>
<p>15. Определите эластичность предложения, если снижение цены на 3 % приведёт к сокращению объёма предложения на 12%:</p> <p>a) совершенно эластичное предложение b) совершенно неэластичное предложение c) неэластичное предложение d) эластичное предложение</p>	<p>ОК-3 ОК-7 ОПК-7 ПК-7</p>
<p>16. Доход потребителя = 8000 р., цена товара А = 1000 р., товара В = 500 р. Какая из комбинаций товаров находится на бюджетной линии?</p> <p>a) 8А и 1В b) 5А и 6В c) 6А и 6В d) 7А и 1В</p>	<p>ОК-3 ОК-7 ОПК-7 ПК-7</p>
<p>17. Реклама новой услуги сотовой связи по предоставлению доступа к сети Internet, основанная на указании стоимости, является примером _____ конкуренции.</p> <p>a) внутриотраслевой ценовой b) внутриотраслевой неценовой c) межотраслевой ценовой d) межотраслевой неценовой</p>	<p>ОК-3 ОК-7 ОПК-7 ПК-7</p>

<p>18. На рисунке представлены линии распределения дохода в стране. Если фактическое распределение доходов в данной стране описывает линия №3, то введение пропорциональной шкалы налогообложения вместо прогрессивной приведёт к сдвигу кривой Лоренца в положение № ...</p> <p>a) 5 b) 2 c) 1 d) 4</p>	<p>ОК-3 ОК-7</p>
<p>19. Найдите ВВП, если расходы домохозяйств составляют 15 трлн.р., валовые инвестиции – 10 трлн.р., расходы государства – 9 трлн.р., амортизация – 3 трлн.р., импорт – 5 трлн.р., экспорт – 7 трлн.р.:</p> <p>a) 39 трлн.р. b) 46 трлн.р. c) 36 трлн.р. d) 37 трлн.р.</p>	<p>ОК-3 ОК-7</p>
<p>20. Ставка банковского процента составляет 12%. Темп инфляции за год равен 12 %. Какой должна быть процентная ставка, чтобы вклад в банке приносил прибыль?</p> <p>a) 110% b) 13% c) 22% d) 11%</p>	<p>ОК-3 ОК-7</p>
<p>21. Государственная форма собственности в России не характерна для:</p> <p>a) фундаментальной науки b) экологической защиты c) легкой промышленности d) Центрального Банка России</p>	<p>ОК-3 ОК-7 ОПК-7 ПК-7</p>
<p>22. Отрицательная разница между издержками производства и объёмами выпуска продукции представляет собой _____ эффект масштаба.</p> <p>a) положительный b) постоянный c) нейтральный d) отрицательный</p>	<p>ОК-3 ОК-7 ОПК-7 ПК-7</p>
<p>23. Общий доход фирмы (TR) равен 450 тыс. руб. Расходы на зарплату составили 170 тыс. руб., на сырьё – 60 тыс. руб., неявные издержки – 80 тыс. руб. Бухгалтерская прибыль предприятия составит _____ тыс. руб.</p>	<p>ОК-3 ОК-7 ОПК-7 ПК-7</p>



a) 220 b) 140 c) 390 d) 230	
24. Объем инвестиций не зависит от ... a) ожидаемой нормы чистой прибыли b) экономических ожиданий c) реальной ставки процента d) курса национальной валюты	ОК-3 ОК-7
25. К основным причинам экспорта капитала на современном этапе относится _____ в странах приложения капитала. a) отсутствие сырья b) более дешевая рабочая сила c) неблагоприятный инвестиционный климат d) повышение уровня инфляции	ОК-3 ОК-7
Вариант 2	
1. Утверждение о том, что в бюджете страны уровень инфляции на будущий год заложен на уровне 7,5%, является примером применения метода ... a) позитивного анализа b) синтеза c) дедукции d) нормативного анализа	ОК-3 ОК-7 ОПК-7 ПК-7
2. Экономическая система, в которой связь между производством и потреблением осуществляется только посредством государственного регулирования, называется ... a) командной b) рыночной c) смешанной d) традиционной	ОК-3 ОК-7 ОПК-7 ПК-7
3. Водоснабжение в городах является _____ рынком. a) нелегальным b) монопольным c) совершенным d) внешним	ОК-3 ОК-7 ОПК-7 ПК-7

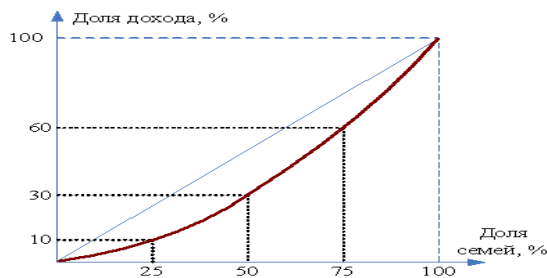
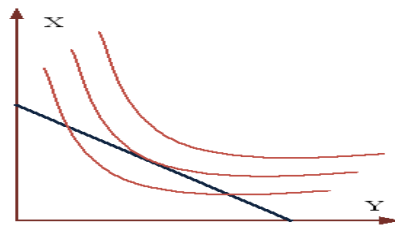
<p>4. На основе данных рисунка можно сделать вывод, что излишки продавцов составляют _____ тыс. д. ед.</p> <p>a) 150 b) 90 c) 600 d) 690</p>		<p>ОК-3 ОК-7 ОПК-7 ПК-7</p>																					
<p>5. Покупка бизнесменом дорогостоящего мобильного телефона элитной марки в теории потребительского поведения характеризуется как эффект _____</p> <p>a) сноба (противопоставляющего поведения) b) дохода c) замещения d) Веблена (демонстративного поведения)</p>		<p>ОК-3 ОК-7 ОПК-7 ПК-7</p>																					
<p>6. Выберите два ответа. На рынке монополистической конкуренции ...</p> <p>a) фирмы производят стандартизированный продукт b) фирмы производят дифференцированный продукт c) отсутствует стратегическое взаимодействие фирм d) присутствует стратегическое взаимодействие фирм</p>		<p>ОК-3 ОК-7 ОПК-7 ПК-7</p>																					
<p>7. Рассчитайте квинтильный коэффициент</p> <table border="1" data-bbox="319 1232 1069 1321"> <thead> <tr> <th>Квинтили</th> <th>I</th> <th>II</th> <th>III</th> <th>IV</th> <th>V</th> </tr> </thead> <tbody> <tr> <td>Доля дохода, %</td> <td>10</td> <td>15</td> <td>20</td> <td>20</td> <td>35</td> </tr> </tbody> </table> <p>a) 3,5 b) 2,2 c) 1,75 d) 2</p>	Квинтили	I	II	III	IV	V	Доля дохода, %	10	15	20	20	35		<p>ОК-3 ОК-7</p>									
Квинтили	I	II	III	IV	V																		
Доля дохода, %	10	15	20	20	35																		
<p>8. Фирма является монополистом в своей отрасли. Зависимость валовых издержек и цены от объёмов производства представлена в таблице. Рассчитайте величину прибыли от продажи четырёх единиц продукции.</p> <table border="1" data-bbox="207 1624 1212 1836"> <thead> <tr> <th>Q</th> <th>0</th> <th>1</th> <th>2</th> <th>3</th> <th>4</th> <th>5</th> </tr> </thead> <tbody> <tr> <td>P</td> <td>100</td> <td>90</td> <td>80</td> <td>70</td> <td>60</td> <td>50</td> </tr> <tr> <td>ТС</td> <td>80</td> <td>110</td> <td>136</td> <td>152</td> <td>180</td> <td>240</td> </tr> </tbody> </table> <p>a) 110 b) 60 c) 240 d) 80</p>	Q	0	1	2	3	4	5	P	100	90	80	70	60	50	ТС	80	110	136	152	180	240		<p>ОК-3 ОК-7 ОПК-7 ПК-7</p>
Q	0	1	2	3	4	5																	
P	100	90	80	70	60	50																	
ТС	80	110	136	152	180	240																	

<p>9. Инженер, ищущий работу более шести месяцев в связи с сокращением предприятий в отрасли, относится к категории _____ безработных.</p> <p>а) скрытых б) структурных с) фрикционных д) циклических</p>	<p>ОК-3 ОК-7</p>
<p>10. Общий доход фирмы (TR) составил 450 тыс. руб. При этом расходы на зарплату равны 170 тыс. руб., на сырьё – 60 тыс. руб., неявные издержки – 80 тыс. руб. Чистая экономическая прибыль предприятия составила _____ тыс. руб.</p> <p>а) 140 б) 220 с) 110 д) 370</p>	<p>ОК-3 ОК-7 ОПК-7 ПК-7</p>
<p>11. Решая задачу на определение параметров рыночного равновесия на контрольной работе, студент пользуется таким методом познания, как ...</p> <p>а) синтез б) нормативный анализ с) аналогия д) эксперимент</p>	<p>ОК-3 ОК-7 ОПК-7 ПК-7</p>
<p>12. Определите, сколько наличных денег потребуется для обращения, если каждая денежная единица оборачивается 15 раз в год, а в стране за год произведено товаров и услуг на сумму 45 трлн.р.:</p> <p>а) 2 трлн.р. б) 675 трлн.р. с) 337,5 трлн.р. д) 3 трлн.р.</p>	<p>ОК-3 ОК-7 ОПК-7 ПК-7</p>
<p>13. Главным фактором, влияющим на величину предложения товара, выступают:</p> <p>а) вкусы покупателей б) число продавцов с) цены на ресурсы д) цены на товары</p>	<p>ОК-3 ОК-7 ОПК-7 ПК-7</p>
<p>14. Закон убывающей предельной полезности иллюстрирует ряд значений общей полезности:</p> <p>а) 20, 25, 27, 28 б) 20, 30, 40, 50 с) 20, 45, 75, 110 д) 20, 35, 45, 60</p>	<p>ОК-3 ОК-7 ОПК-7 ПК-7</p>
<p>15. К дифференцированной олигополии относят:</p> <p>а) рынок стали б) автомобильный рынок с) рынок сырой нефти</p>	<p>ОК-3 ОК-7 ОПК-7 ПК-7</p>

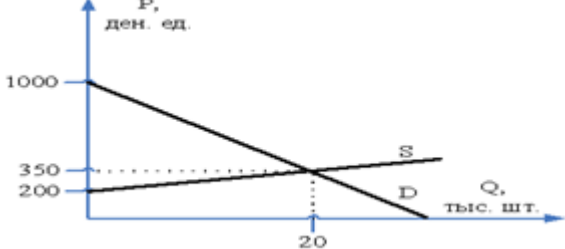
d) рынок металла	
16. Известны значения коэффициента Джини в развитых странах: Великобритания – 0,29; США – 0,34; ФРГ – 0,25; Швеция – 0, 21. При этом условия расположения стран по уменьшению степени неравенства доходов будет следующим: a) Швеция, ФРГ, Великобритания, США b) Великобритания, ФРГ, Швеция, США c) США, Великобритания, ФРГ, Швеция d) ФРГ, Швеция, США, Великобритания	ОК-3 ОК-7
17. Какие из перечисленных доходов включают в ВВП? a) доход домохозяйки от экономного ведения хозяйства b) доход от продажи семьей старого холодильника c) доход владельца автозаправочной станции d) денежный перевод от родителей	ОК-3 ОК-7
18. Одним из способов снижения _____ безработицы является развитие системы переподготовки специалистов. a) фрикционной b) циклической c) структурной d) сезонной	ОК-3 ОК-7
19. Неценовой фактор изменения спроса – это: a) уменьшение издержек производства товаров b) расширение производства c) изменение величины дохода покупателей d) использование новейших технологий производства	ОК-3 ОК-7 ОПК-7 ПК-7
20. Сколько времени потребуется, чтобы цены удвоились, если инфляция сохранится на уровне 5% в год: a) 14 лет b) 7 лет c) 11 лет d) 9 лет	ОК-3 ОК-7
21. Кафе, которое принадлежит индивидуальному предпринимателю, использующему наёмный труд, является примером объекта собственности _____ присвоения. a) частного индивидуального b) общего совместного c) общего долевого d) частного долевого	ОК-3 ОК-7 ОПК-7 ПК-7

<p>22. К основному капиталу относят:</p> <p>a) дизельное топливо b) лопаты c) крепежные материалы d) экскаватор</p>	<p>ОК-3 ОК-7 ОПК-7 ПК-7</p>
<p>23. Политике дешевых денег присуще ...</p> <p>a) понижение процентной ставки b) сокращение роста денежной массы c) сокращение инвестиций d) сокращение инфляции</p>	<p>ОК-3 ОК-7</p>
<p>24. Инвестиции, не предоставляющие инвестору возможность установить эффективный контроль над предприятием, называются:</p> <p>a) реальными b) валовыми c) чистыми d) портфельными</p>	<p>ОК-3 ОК-7</p>
<p>25. Примером тарифного регулирования внешней торговли является:</p> <p>a) введение количественных ограничений по вывозу леса b) повышение пошлин за вывоз леса c) субсидирование предприятий, занятых деревообработкой d) государственные закупки леса по установленным расценкам</p>	<p>ОК-3 ОК-7</p>
<p><i>Вариант 3</i></p>	
<p>1. Выработка рекомендаций по преодолению экономического кризиса является примером _____ подхода.</p> <p>a) нормативного b) позитивного c) индуктивного d) дедуктивного</p>	<p>ОК-3 ОК-7 ОПК-7 ПК-7</p>
<p>2. Теорию прибавочной стоимости разработал:</p> <p>a) Адам Смит b) Давид Рикардо c) Карл Маркс d) Альфред Маршалл</p>	<p>ОК-3 ОК-7 ОПК-7 ПК-7</p>
<p>3. Какая функция денег используется, когда фирма выдаёт работникам заработную плату?</p> <p>a) мера стоимости b) средство обращения c) средство сбережения d) средство платежа</p>	<p>ОК-3 ОК-7 ОПК-7 ПК-7</p>

<p>4. Если в качестве критерия классификации рынка выступает объект рыночных отношений, то оборудование можно отнести к объекту рынка ...</p> <p>а) инноваций б) потребительского с) реального капитала д) недвижимости</p>	<p>ОК-3 ОК-7 ОПК-7 ПК-7</p>
<p>5. Функция спроса задана уравнением $Q_D = 90 - 0,03P$, где Q_D – величина спроса, тыс. шт., P – цена, д. ед.; функция предложения задана уравнением $Q_S = 0,05P - 70$, где Q_S – величина предложения, тыс. шт., P – цена, д. ед. Равновесный объем продаж составит ___ тыс. шт.</p> <p>а) 30 б) 2 с) 3 д) 330</p>	<p>ОК-3 ОК-7 ОПК-7 ПК-7</p>
<p>6. На рисунке показана ситуация равновесия потребителя при заданных ценах на товары X и Y и номинальной величине дохода потребителя. Увеличение номинального дохода потребителя при прочих равных условиях станет причиной появления нового равновесного набора товаров X и Y, в котором будет ...</p> <p>а) больше и товара X, и товара Y б) меньше и товара X, и товара Y с) больше товара X и столько же товара Y д) больше товара Y и столько же товара X</p>	<p>ОК-3 ОК-7 ОПК-7 ПК-7</p>
<p>7. Больше всего условиям олигополии соответствует рынок ...</p> <p>а) пшеницы б) сотовой связи с) парикмахерских услуг д) хозяйственных товаров</p>	<p>ОК-3 ОК-7 ОПК-7 ПК-7</p>
<p>8. На рисунке представлено распределение суммарного дохода по четырем 25-процентным группам семей – от самой бедной до самой богатой. Квартильный коэффициент для указанного распределения равен:</p> <p>а) 0,4 б) 4 с) 0,6 д) 10</p>	<p>ОК-3 ОК-7</p>



<p>9. При условии, что личные потребительские расходы увеличились на 150 д. ед., государственные расходы – на 120 д. ед., валовые инвестиции увеличились на 80 д. ед., объем экспорта не изменился, а объем импорта вырос на 30 д. ед., ВВП ...</p> <p>а) увеличится на 320 д. ед. б) сократится на 30 д. ед. в) сократится на 120 д. ед. г) увеличится на 350 д. ед.</p>	<p>ОК-3 ОК-7</p>
<p>10. Общий доход фирмы (TR) равен 450 тыс. руб. Расходы на зарплату составили 170 тыс. руб., на сырьё – 60 тыс. руб., неявные издержки – 80 тыс. руб. Бухгалтерская прибыль предприятия составит _____ тыс. руб.</p> <p>а) 390 б) 140 в) 220 г) 230</p>	<p>ОК-3 ОК-7 ОПК-7 ПК-7</p>
<p>11. Управление предприятием на основе применения различных теорий фирмы является примером _____ функции экономической теории.</p> <p>а) практической б) познавательной в) идеологической г) методологической</p>	<p>ОК-3 ОК-7 ОПК-7 ПК-7</p>
<p>12. Т. Веблен является представителем экономической школы (направления) под названием:</p> <p>а) «монетаризм» б) «маржинализм» в) «кейнсианство» г) «институционализм»</p>	<p>ОК-3 ОК-7 ОПК-7 ПК-7</p>
<p>13. Наибольшая дифференциация доходов населения характерна для экономики ...</p> <p>а) США б) Швеции в) Японии г) СССР</p>	<p>ОК-3 ОК-7</p>
<p>14. Совокупность учреждений, государственных и коммерческих фирм, обеспечивающих успешное функционирование рыночных отношений – это:</p> <p>а) система рынков б) инфраструктура рынка в) субъекты рынка г) объекты рынка</p>	<p>ОК-3 ОК-7 ОПК-7 ПК-7</p>

<p>15. Графики функций спроса и предложения на рынке представлены на рисунке. Излишек (выигрыш) продавцов составит ____ д. ед.</p>  <p>a) 6500 b) 7000 c) 1500 d) 8000</p>	<p>ОК-3 ОК-7 ОПК-7 ПК-7</p>
<p>16. По сравнению с имеющейся сумкой для ноутбука предельная полезность дополнительной сумки, подходящей к цветовой гамме осеннего гардероба, будет:</p> <p>a) непредсказуемой b) меньше c) неизменной d) больше</p>	<p>ОК-3 ОК-7 ОПК-7 ПК-7</p>
<p>17. Соперничество на рынках драгоценных металлов между ювелирными предприятиями и предприятиями электронного приборостроения является примером _____ конкуренции.</p> <p>a) ценовой b) внутриотраслевой c) межотраслевой d) неценовой</p>	<p>ОК-3 ОК-7 ОПК-7 ПК-7</p>
<p>18. Замена прогрессивной шкалы подоходного налога на пропорциональную приведет к ...</p> <p>a) уменьшению коэффициента Джини и приближению кривой Лоренца к биссектрисе b) увеличению квартильного коэффициента и приближению кривой Лоренца к биссектрисе c) уменьшению децильного коэффициента и отдалению кривой Лоренца от биссектрисы d) увеличению коэффициента Джини и отдалению кривой Лоренца от биссектрисы</p>	<p>ОК-3 ОК-7</p>
<p>19. Если постоянные издержки (FC) = 700 руб., а средние переменные издержки (AVC) = 20 руб. при 120 ед. продукции Q, то общие издержки (TC) будут равны ... руб.</p> <p>a) 1400 b) 84000 c) 2400 d) 3100</p>	<p>ОК-3 ОК-7 ОПК-7 ПК-7</p>

<p>20. Примером объекта нелегального рынка товаров и услуг в РФ могут служить:</p> <p>a) проезд в общественном транспорте b) гранатометы c) рабочий скот d) магазины</p>	<p>ОК-3 ОК-7 ОПК-7 ПК-7</p>
<p>21. К частной собственности не относят:</p> <p>a) сдачу внаем приватизированной квартиры b) Пенсионный фонд России c) домашние хозяйства d) ЗАО «Ариада»</p>	<p>ОК-3 ОК-7 ОПК-7 ПК-7</p>
<p>22. Швейная фабрика увеличила численность персонала на 20%, что привело к такому же росту объёма производства. Следовательно, это предприятие относится к отрасли с _____ эффектом масштаба.</p> <p>a) нейтральным b) положительным c) постоянным d) отрицательным</p>	<p>ОК-3 ОК-7 ОПК-7 ПК-7</p>
<p>23. Если Центральный банк повышает учетную ставку, то эта мера, являющаяся частью денежно-кредитной политики, направлена, в первую очередь, на ...</p> <p>a) сокращение общего объема денежной массы b) стимулирование роста величины сбережений населения c) содействие увеличению объемов ссуд, предоставляемых Центральным банком коммерческим банкам d) рост общей величины резервов коммерческих банков</p>	<p>ОК-3 ОК-7</p>
<p>24. Косвенные налоги платит:</p> <p>a) производитель b) продавец c) посредник d) покупатель</p>	<p>ОК-3 ОК-7</p>
<p>25. В зависимости от степени обработки товара наиболее высокая ввозная пошлина будет применяться к ...</p> <p>a) моткам шерстяных ниток для ручного вязания b) трикотажным изделием из шерсти c) упаковкам шерсти ниток для производства d) стриженной шерсти для производства пряжи</p>	<p>ОК-3 ОК-7</p>